

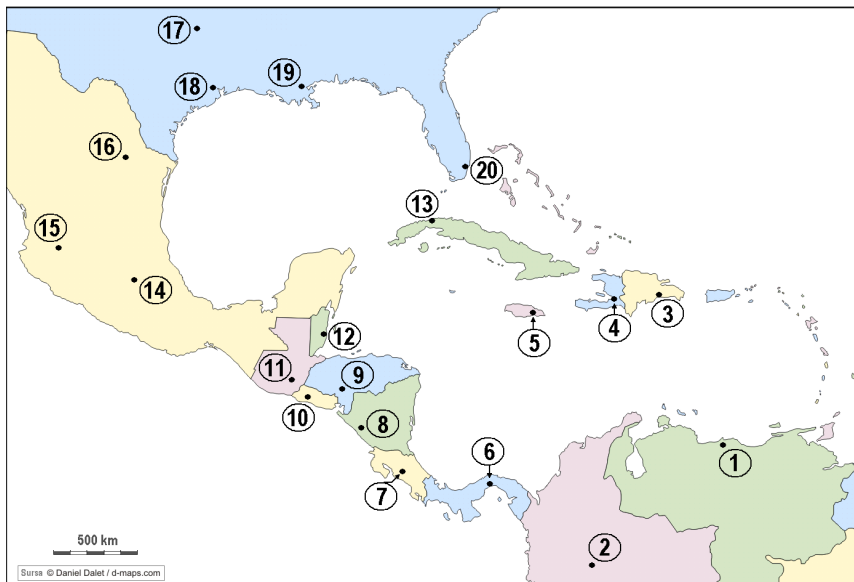
CONCURSUL ȘCOLAR DE GEOGRAFIE,  
ETAPA NAȚIONALĂ, 2 – 7 APRILIE 2012, CRAIOVA  
CLASA a X-a

- Toate subiectele sunt obligatorii. Se acordă 10 puncte din oficiu.
- Timpul efectiv de lucru este de 3 ore.

I. Aveți în vedere harta alăturată.

Precizați:

- numele orașelor marcate, pe hartă, cu numere de la 1 la 20;
- numele statelor ale căror capitale sunt orașe marcate pe hartă;
- forma de guvernământ pentru statele ale căror capitale sunt orașele marcate pe hartă, cu numerele 3, 5, 10, 12 și 13;
- două cauze care determină valoarea mare a mortalității infantile (52,44‰ est. în 2012) în statul a cărui capitală este orașul marcat cu numărul 4.

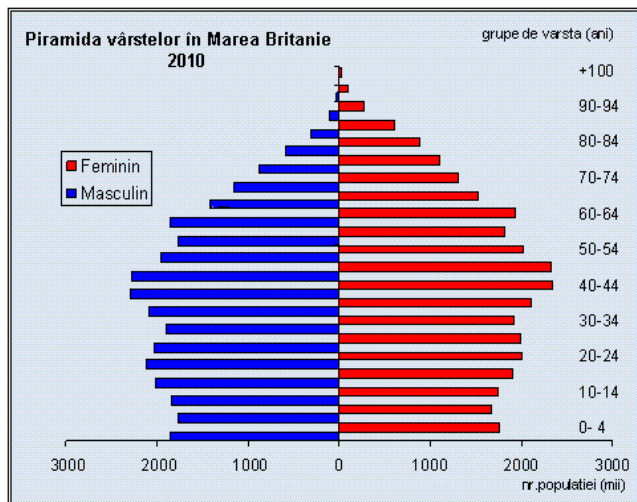
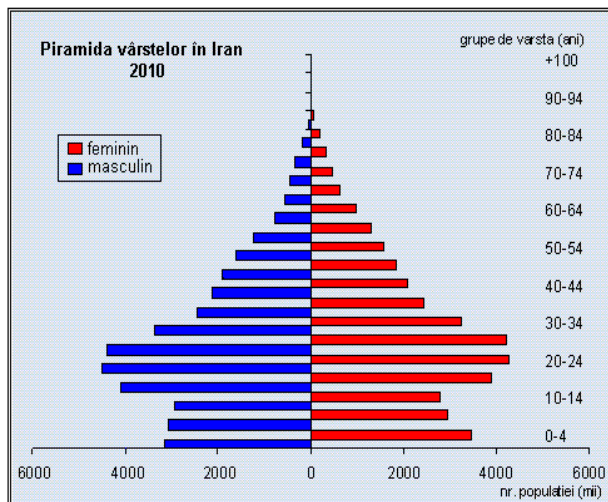


- o cauză, pentru care, în statele cu capitalele marcate pe hartă, cu numerele 4, 5 și 12, se vorbește o altă limbă decât spaniola;

Total 30 puncte

II. Interpretați piramidele grupelor de vârstă reprezentate grafic mai jos. Precizați:

- caracteristicile generale (vârf, flancuri, bază, formă);
- caracteristicile grupelor de vârstă ce reprezintă populația tânără și populația vârstnică.



Total 10 puncte

**III. Se dau următoarele teritorii:** Falkland, Feroe, Gibraltar, Guam, Martinica, Aruba, Groenlanda, Noua Caledonie, Svalbard, Puerto Rico.

- Precizați statele față de care sunt dependente sau aparținătoare teritoriile menționate mai sus.
- Precizați poziția geografică a fiecărui teritoriu.

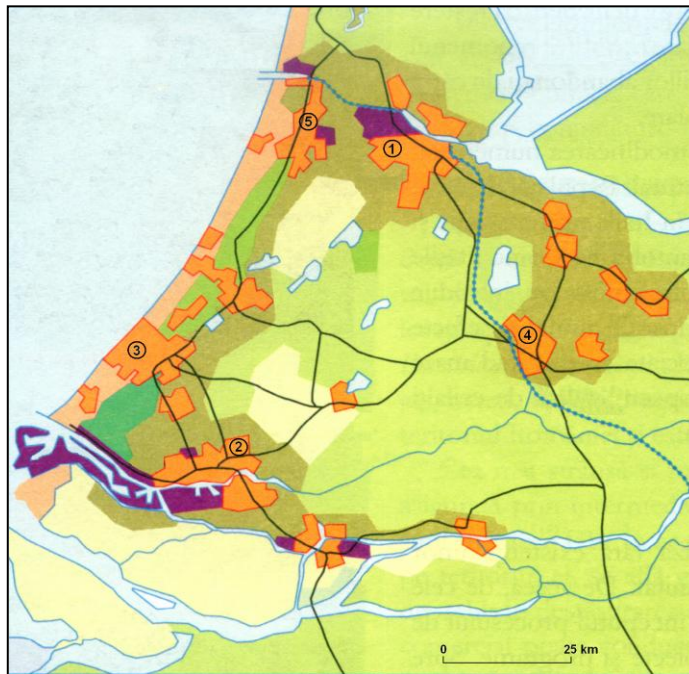
**Total 15 puncte**

**IV. Pe harta alăturată este reprezentată o mare conurbație europeană.**

**Precizați:**

- numele conurbației și numele țării în care se află;
- numele orașelor marcate cu cifrele 1, 2, 3, 4 și 5;
- câte o ramură industrială reprezentativă pentru fiecare oraș identificat;
- trei factori favorizanți pentru dezvoltarea urban-industrială a regiunii.

**Total 15 puncte**



**V. Datele statistice recente arată că rezervele de petrol și gaze naturale sunt pe cale de epuizare în următorii 30-40 ani.**

- menționați trei soluții de conservare a resurselor de petrol și gaze naturale pe termen mediu și lung;
- precizați care dintre soluțiile menționate este mai indicată pentru următoarele regiuni: Europa, America de Nord, America de Sud și Rusia;
- explicați discrepanțele impuse de rezervele de petrol și gaze naturale și consum, și implicațiile lor asupra echilibrului ecologic.

**Total 20 puncte**